



PREFEITURA MUNICIPAL

SÃO JOSÉ DO VALE DO RIO PRETO

São José pode mais!

Em parceria



**Material de Complementação
Escolar
1º ano
09-11 a 19-11**

**Secretaria de Educação, Cultura,
Ciência e Tecnologia**

2020



pt.victeazy.com

CONVERSE COM AS PESSOAS QUE MORAM COM VOCÊ SOBRE ATITUDES QUE PODEMOS TER EM NOSSO DIA A DIA PARA VIVERMOS EM COMUNIDADE.




DESAFIO

CIRCULE A PALAVRA ESCONDIDA DENTRO DA PALAVRA:

COMUNIDADE

VAMOS BRINCAR DE LER?

1 PINTE AS PALAVRAS CORRESPONDENTES AOS NOMES DE CADA IMAGEM.



DITADO

DOMINÓ

DAMA

DIA



BODE

TOMADA

CABIDE

PADARIA



DATA

DEDO

DETETIVE

DOURADO



FADA

RÁDIO

POMADA

CADEADO

pixabay.com



EU **MORO** NO **MORRO** DAS MARGARIDAS!

PRESTE ATENÇÃO AO SOM DA LETRA **R** NAS PALAVRAS **MORO** E **MORRO**.
VOCÊ PERCEBEU ALGUMA DIFERENÇA?

1 ESCREVA A LETRA **R** NOS ESPAÇOS ABAIXO. DEPOIS, LEIA AS PALAVRAS, ESCOLHA UMA DELAS E DESENHE-AS.

CARETA
CA____RETA

CARO
CA____RO

2 ORGANIZE AS PALAVRAS DE ACORDO COM AS COLUNAS INDICADAS.

BEZERRO
MACARRÃO

BETERRABA
SERROTE

JARRO
BURRO

OBJETOS	ANIMAIS	ALIMENTOS

TRILHA DOS DESAFIOS

TANINHA CONTOU QUE AS PESSOAS COSTUMAM SE AJUDAR NA COMUNIDADE EM QUE ELA VIVE.

AGORA 😊
é com você !!!

COM A AJUDA DAS PESSOAS QUE MORAM COM VOCÊ, RESPONDA ÀS QUESTÕES ATÉ CHEGAR AO FINAL DA TRILHA.

PARTIDA

CARLOS ARRECADOU 10 CASACOS E 5 CALÇAS PARA DOAÇÃO DA CAMPANHA DE INVERNO. QUANTAS ROUPAS ELE ARRECADOU NO TOTAL?



AO ARRUMAR SUA GAVETA, ALICE ACHOU 6 MEIAS COLORIDAS. QUANTOS PARES DE MEIAS ELA CONSEGUIRÁ FORMAR?



AJUDE TANINHA NA SEGUINTE QUESTÃO: ELA PRECISA DE 4 GARFOS E 4 COLHERES PARA SERVIR A REFEIÇÃO EM SUA CASA. DE QUANTOS TALHERES ELA PRECISA NO TOTAL?



A MÃE DE PAULO FEZ 9 MÁSCARAS AZUIS E 5 MÁSCARAS VERDES PARA DOAÇÃO NA COMUNIDADE. QUANTAS MÁSCARAS ELA FEZ NO TOTAL?

CHEGADA

1º ANO



PRESTEM ATENÇÃO NESTES NOMES: **PAULINHO** E **TANINHA**. SÃO NOMES QUE POSSUEM **NH**! ESSE SOM É DIFERENTE!

VAMOS DESCOBRIR MAIS PALAVRAS COM **NH**!

1 COMPLETE AS PALAVRAS E, DEPOIS, COPIE-AS NAS LINHAS ABAIXO.



SARDI _____



GOLFI _____



NI _____



COZI _____



I _____ ME




MI _____ CA

2 REESCREVA A FRASE SUBSTITUINDO AS IMAGENS POR PALAVRAS.


RUTINHA VIU A  NA ÁRVORE DO QUINTAL.

“OLHA, ESTÁ CHOVENDO NA ROSEIRA QUE SÓ DÁ ROSA, MAS NÃO CHEIRA”



COM CH, ESCREVO CHEIRA.
O CH REPRESENTA O SOM DE X.

1 ESCREVA OS NOMES DAS IMAGENS ABAIXO.



2 ESCOLHA UMA DAS PALAVRAS DA ATIVIDADE ACIMA E FORME UMA FRASE.



QUE ENGRAÇADO!
QUANDO A LETRA **H** ESTÁ JUNTO DAS LETRAS **C, L E N**,
ELA REPRESENTA SONS DIFERENTES.

LEIA ALGUMAS PALAVRAS ENCONTRADAS NA CANÇÃO E PERCEBA ESTA DIFERENÇA:

CH	LH	NH
CHEIRA	MOLHADO	PAULINHO

1 COMPLETE A CRUZADINHA COM OS NOMES DAS IMAGENS.

PILHA MILHO FOLHA JOELHO
TOALHA TELHA PALHAÇO MEDALHA

The crossword puzzle grid is composed of white squares for letters and black squares for empty space. Arrows from the images point to the starting squares of the words:

- Medal: 1 down, 1 square
- Clown: 1 across, 1 square
- Leaf: 1 across, 1 square
- Stack of paper: 1 across, 1 square
- Towel: 1 across, 1 square
- Battery: 1 across, 1 square
- Corn: 1 across, 1 square
- Leg: 1 across, 1 square

pt.victorzy.com



APRENDI MAIS UMA COISA! QUANDO A LETRA **H** É USADA NO INÍCIO DAS PALAVRAS, ELA NÃO REPRESENTA NENHUM SOM. VEJA!

PINTE A PRIMEIRA LETRA QUE VOCÊ OUVI NA PALAVRA: **HORA**.

QUANDO FALAMOS A PALAVRA **HORA**, OUVIMOS PRIMEIRO O SOM DA LETRA **O**, POIS O **H** NÃO REPRESENTA NENHUM SOM.


 LIGUE AS PALAVRAS ÀS IMAGENS CORRESPONDENTES.

HIPOPÓTAMO



pixabay.com

HÉLICE



pixabay.com

HIENA





br.freepik.com

pt.victorzy.com

NOSSA! EU JÁ SEI LER E ESCREVER TANTAS COISAS!


PARABÉNS, CARLOS! APRENDER A LER E ESCREVER É MUITO IMPORTANTE PARA A VIDA DE TODO SER HUMANO!






O NOME LUIZA SE ESCRIVE COM A LETRA **Z!**

O DESAFIO AGORA É SEU!

1  **DESCUBRA OUTRAS PALAVRAS COM A LETRA Z. PINTE AS SÍLABAS E ESCREVA OS NOMES DAS IMAGENS.**

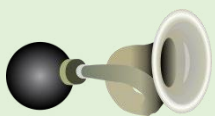
https://br.freepik.com

	ZE	O	ZA
	A	ZU	RO
	ZI	E	ZI


pixabay.com

	MI	O	ZA
	ZU	GÃO	A
	LE	E	JO

pixabay.com

	ZI	O	ZE
	RA	BU	NA
	TE	MA	ZI


https://br.freepik.com

	ZI	O	ZA
	DO	ZU	A
	ZE	E	ZO

pixabay.com

	NA	O	A
	LO	ZU	ZA
	ZEI	LA	TE

https://br.freepik.com

	A	O	ZA
	ZEI	ZU	I
	TO	E	NA

Roda de Conversa

VOCÊ CONHECE O NOME DE ALGUM COLEGA DE SUA TURMA, OU DE OUTRA PESSOA, QUE COMECE COM AS LETRAS **K**, **W** E **Y**?

EU CONHEÇO A **K**AMILE, O **W**ILIAN E O **Y**AGO!



1 FAÇA UMA PESQUISA DE NOMES COM AS LETRAS **K**, **W**, **Y** E ESCREVA OS NOMES NOS ESPAÇOS ABAIXO.



KAMILE



WILIAN



YAGO

2 COMPLETE A FRASE COM A PALAVRA CORRETA.

_____ ADORA COMER BOLO DE CHOCOLATE.

YASMIN
YAKISOBA





(...) E UM RAIOS DE SOL
NOS TEUS CABELOS
COMO UM BRILHANTE QUE PARTINDO A LUZ
EXPLODE EM SETE CORES
REVELANDO ENTÃO OS SETE MIL AMORES
QUE EU GARDEI SOMENTE PRA TE DAR
LUIZA



pl.viteezy.com

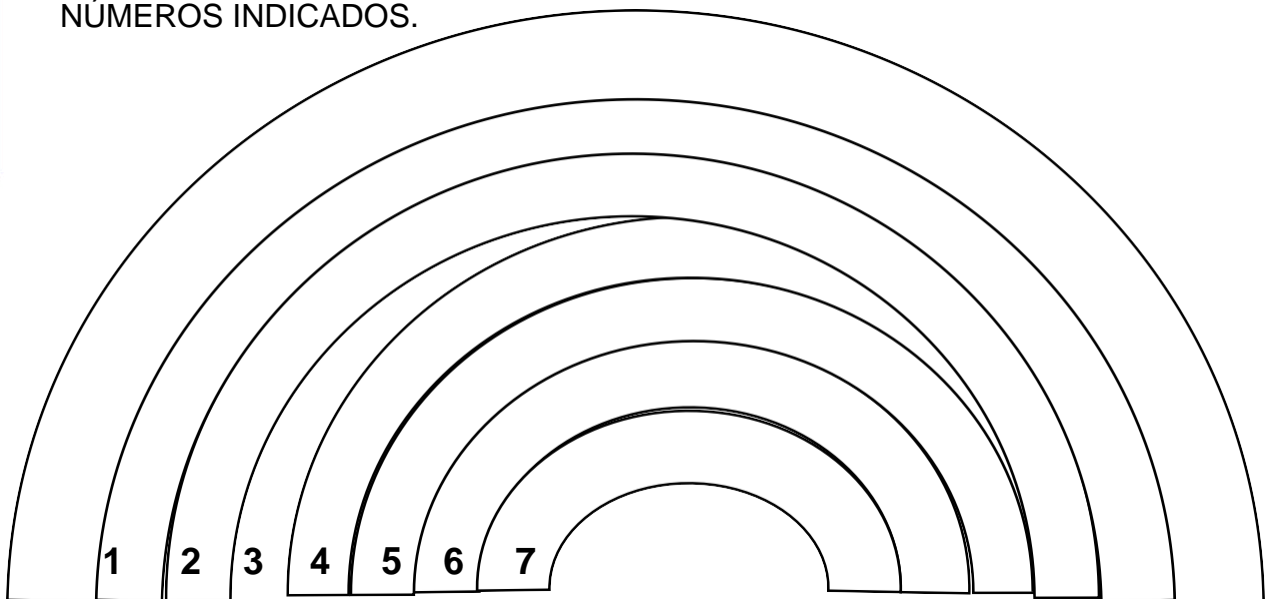
SETE CORES? ISSO ME FEZ LEMBRAR
UM ARCO-ÍRIS!

pl.viteezy.com

DESAFIO

VOCÊ JÁ VIU UM ARCO-ÍRIS? LEMBRA DE TODAS AS SUAS CORES?

1 COM A AJUDA DE ALGUÉM QUE MORE COM VOCÊ, LEIA OS NOMES DAS SETE CORES DO ARCO-ÍRIS E PINTE AS FAIXAS DE ACORDO COM OS NÚMEROS INDICADOS.



1- VERMELHO

2- LARANJA

3- AMARELO

4- VERDE


5- AZUL

6- ANIL

7- VIOLETA



QUANDO OLHAMOS O **SOL** E A **LUA**, CONSEGUIMOS PERCEBER A PASSAGEM DO TEMPO DURANTE UM DIA!

 PENSE EM ATIVIDADES QUE GERALMENTE REALIZAMOS DURANTE A MANHÃ E À NOITE. DEPOIS, COMPLETE OS ESPAÇOS COM AS INFORMAÇÕES E FAÇA UM DESENHO CAPRICHADO.



PELA MANHÃ EU



À NOITE EU

1 OBSERVE A IMAGEM.



2 AGORA, FAÇA UM X NAS MERCADORIAS QUE PODEMOS ENCONTRAR EM UMA BARRACA DE FEIRA.

pt.vecteezy.com



pixabay.com

3 ESCREVA OS NOMES DAS IMAGENS QUE VOCÊ NÃO MARCOU.

DESAFIO



MARQUE UM X NA PALAVRA ESCONDIDA DENTRO DA PALAVRA **LIMÃO**.



pixabay.com

BRINCANDO com a Matemática

1 COMPLETE A TABELA, ESCRREVENDO POR EXTENSO A QUANTIDADE DE MERCADORIAS QUE O FEIRANTE VENDEU.

MERCADORIA	QUANTIDADE EM ALGARISMO	QUANTIDADE POR EXTENSO
	18	DEZOITO
	26	_____
	15	_____
	21	_____

2 MARQUE UM X NA FRUTA REPRESENTADA EM MAIOR QUANTIDADE.







2 LIGUE OS NÚMEROS POR EXTENSO AOS ALGARISMOS CORRESPONDENTES.

VINTE E CINCO

23

VINTE E OITO

26

VINTE E NOVE

21

VINTE

28

VINTE E TRÊS

24

VINTE E SETE

22

VINTE E QUATRO

25

VINTE E SEIS

27

VINTE E UM

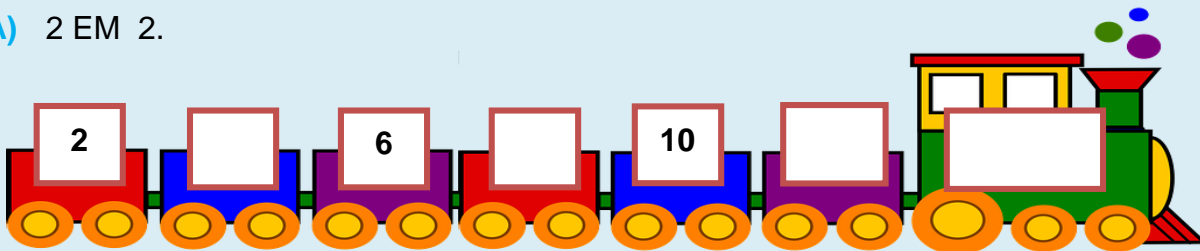
29

VINTE E DOIS

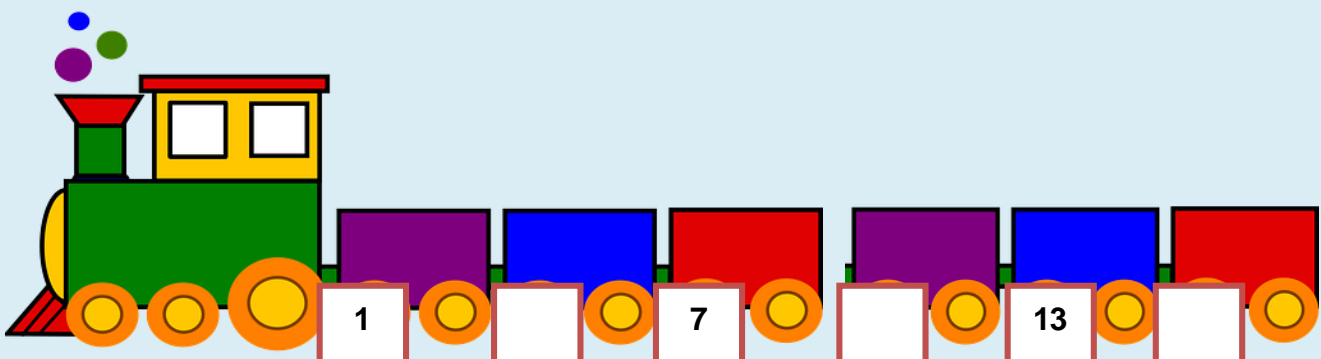
20

3 COMPLETE AS SEQUÊNCIAS NUMÉRICAS, CONTANDO DE

A) 2 EM 2.




B) 3 EM 3.






1 OBSERVE A IMAGEM.




pt.vecteezy.com

2 ESCREVA OS NOMES DE ALGUNS ANIMAIS DO SÍTIO.



pixabay.com



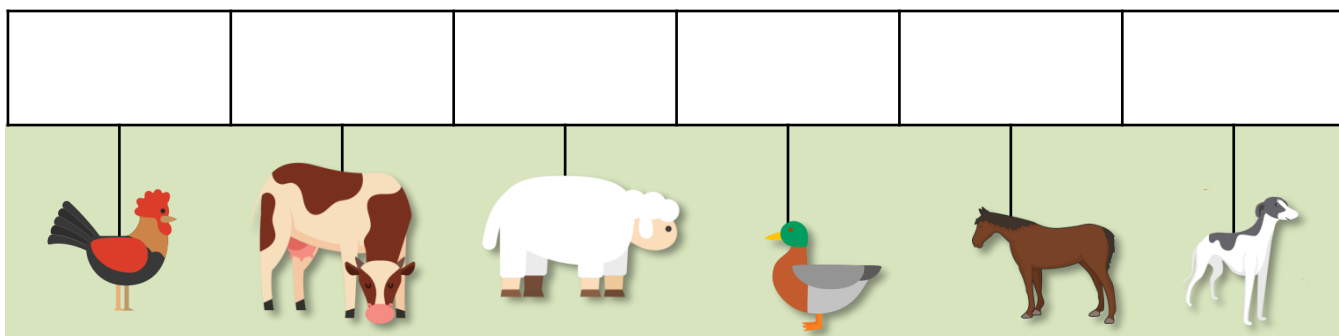
3 ESCREVA UMA FRASE SOBRE O QUE VOCÊ VÊ NA IMAGEM.

CARLOS RESOLVEU CONTAR QUANTOS ANIMAIS HAVIA NO SÍTIO.

1 LEIA A TABELA COM A QUANTIDADE DE ANIMAIS DO SÍTIO DO TIO DE CARLOS.

ANIMAL	QUANTIDADE
	24 CAVALOS
	21 VACAS
	23 PATOS
	22 OVELHAS
	20 GALINHAS
	25 CÃES

2 NA RETA NUMÉRICA, ORGANIZE OS NÚMEROS QUE REPRESENTAM A QUANTIDADE DE CADA ANIMAL NO SÍTIO.



A) QUAL É O ANIMAL EM MAIOR QUANTIDADE NO SÍTIO?

B) QUAL É O ANIMAL EM MENOR QUANTIDADE NO SÍTIO?
